


















1. Que son as máquinas? 
2. Para que se usan? 
3. Que necesitan todas as máquinas para funcionar? 
4. Con que tipos de enerxía funcionan as máquinas? 
5. Que clases de máquinas hai? 
6. Que é a polea? 
7. Que é a panca? 
8. De que dependen os tipos de pancas que hai? 
9. Que é o plano inclinado? 
10. Que elementos principais forman parte das máquinas? 
11. Que producen os motores? 
12. Como poden ser? 
13. Que son os engrenaxes? 
14. En que máquinas se encontran os circuítos eléctricos? 
15. Que elementos ten un circuítto eléctrico? 
16. Que son os circuítos electrónicos? 
17. Como se chaman os circuítos electrónicos máis pequenos? 
18. Onde están eses circuítos? 